

# Tabeller och diagram



ASKUNGE

FRAMSTEG I MATEMATIKEN

ISBN 978-91-87701-34-4  
© 2015 Mirvi Unge Thorsén och  
Askunge Thorsén Förlag AB

**PRODUKTION** Mirvi Unge Thorsén  
**FOTO** Mats Thorsén

Produktionsstöd har erhållits av  
Specialpedagogiska skolmyndigheten.

Första upplagan  
1



Boken uppfyller miljökraven  
för märkning med Svanen.

**TRYCK**  
Elanders Sverige AB 2015

#### KOPIERINGSFÖRBUD

Detta verk är skyddat av upphovsrättslagen! Det är inte tillåtet, enligt avtal med Bonus Presskopia, att för undervisningsbruk kopiera ur detta häfte.

Den som bryter mot lagen om upphovsrätt kan åtalas av allmän åklagare och dömas till böter eller fängelse i upp till två år samt bli skyldig att erlägga ersättning till upphovsman/rättsinnehavare.

**ASKUNGE**

Askunge Thorsén Förlag AB  
Mjölnavägen 16, 131 31 Nacka  
TEL: 08-30 95 75 eller 073-951 13 93  
E-POST: askunge@askunge.se  
www.askunge.se

# Innehåll

Ett streck för varje.....	4
Para ihop.....	8
Skriv summan .....	7
Sortera .....	8
En tabell .....	9
Skriv i tabellen .....	10
Rita en tabell .....	11
Läs en tabell .....	12
Sveriges största sjöar .....	14
Tidtabell.....	15
Bilddiagram .....	16
Måla en ruta för varje sak.....	18
Djur i ett diagram .....	19
Fiskar .....	20
Hur många djur är det? .....	21
Glad eller sur? .....	22
Läs ett diagram.....	24
Oktober - vilket väder vann? .....	25
Ett streck för varje figur .....	26
Hur många figurer är det? .....	27
Tabell - grönsaker .....	28
Stapeldiagram - grönsaker.....	29
Ett streck för varje boll.....	30
Hur många bollar är det?.....	31
Hur många finns det? .....	32
En påse godis.....	33
Schack.....	34
Böcker .....	35
Tärningen 1 och 2.....	36
Cirkeldiagram .....	38
Läs ett cirkeldiagram.....	41
Linjediagram .....	44
Gör en egen undersökning.....	48




# Skriv i tabellen

Hur många finns det av varje sort?

Rita ett streck för varje djur.

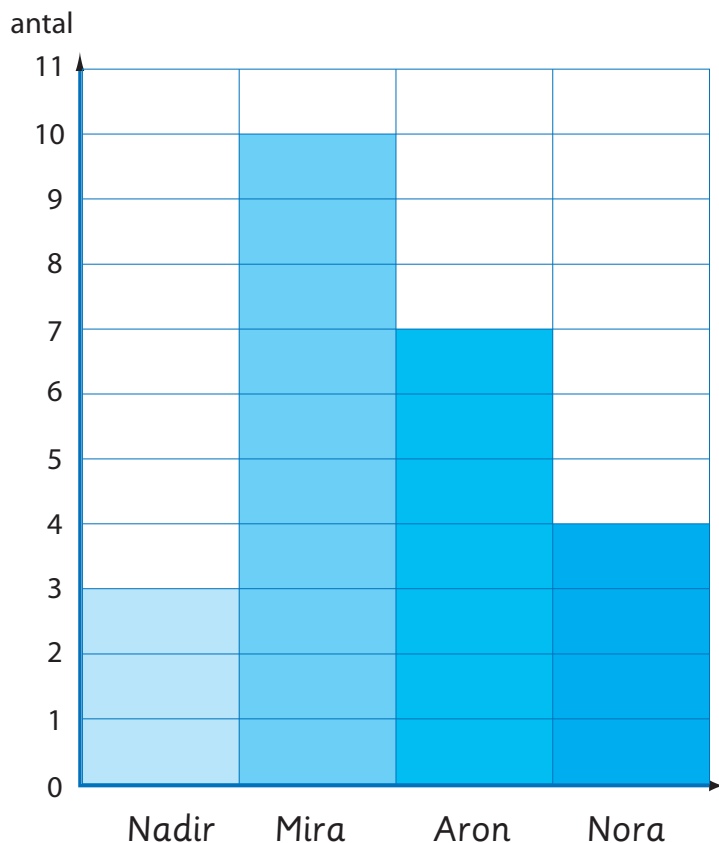

Addera antalet streck.



djur	streck	sammanlagt
		
		
		

# Böcker

Använd diagrammet för att svara på frågorna.



Så här många böcker  
läste vi i skolan  
under hösten.



Hur många böcker läste Nadir? \_\_\_\_\_

Vem läste flest böcker? \_\_\_\_\_

Hur många färre böcker läste Nora än Aron? \_\_\_\_\_

Hur många böcker läste eleverna sammanlagt? \_\_\_\_\_

Skriv en egen fråga till undersökningen.

\_\_\_\_\_

## TABELLER OCH DIAGRAM

**FRAMSTEG I MATEMATIKEN** är en serie arbetsböcker som har sin utgångspunkt i läroplanen, Lgr 11.

Med hjälp av arbetsböckerna och lärarhandledningarna kan du undervisa på ett konkret och strukturerat sätt.

Layouten är tydlig och återkommande.

Progressionen är långsam så att eleverna ska hinna befästa ett moment innan de går vidare. Eleverna får bygga upp sin förståelse för matematiska idéer och grundlägga viktiga begrepp. I lärarhandledningarna finns också många kopieringsunderlag.

Varje häfte tar upp ett område.

- Börja med begrepp
- Mönster och geometri
- Mönster och sekvenser
- Tal och antal
- Tal och talsystem
- Addition och subtraktion 1–5
- Addition och subtraktion 1–10
- Addition och subtraktion 1–20
- Addition och subtraktion 1–50
- Addition och subtraktion 1–100
- Addition och subtraktion 1–500
- Talen 11–18 - tiotalsovergång
- De fyra räknesätten – Likhetstecknet
- Tabeller och diagram
- Problemlösning



**FRAMSTEG I MATEMATIKEN**  
**MIRVI UNGE THORSÉN**

**ASKUNGE**



ISBN 978-91-87701-34-4

