


Victoria W Gustafsson  
Anette S Panboon

*Familjen*

# Bianchi

VARDAGSMATTE



ASKUNGE

ISBN 978-91-86611-62-0

© 2013 Victoria W Gustafsson, Anette S Panboon  
och Askunge AB

PRODUKTION • Mirvi Unge Thorsén

ILLUSTRATION • Helena Holmquist

Mirvi Unge Thorsén s. 5, 12, 16, 17, 18, 20, 26, 28, 29

FOTO • Mats Thorsén

Första upplagan

I



Denna bok uppfyller miljökraven  
för märkning med Svanen.

TRYCK

Elanders Sverige AB 2013

KOPIERINGSFÖRBUD

Detta verk är skyddat av upphovsrättslagen! Det är inte tillåtet, enligt avtal med Bonus Presskopia, att för undervisningsbruk kopiera ur detta häfte. Den som bryter mot lagen om upphovsrätt kan åtalas av allmän åklagare och dömas till böter eller fängelse i upp till två år samt bli skyldig att erlagga ersättning till upphovsman/rättsinnehavare.

**ASKUNGE**

Askunge Thorsén Förlag AB,  
Manhemsvägen 41, 131 46 Nacka  
08-30 95 75, 073-951 13 93  
[www.askunge.se](http://www.askunge.se)  
[askunge@askunge.se](mailto:askunge@askunge.se)



## INNEHÅLL

Familjen Bianchi . . . . .	2	Mördarsnigeln. . . . .	16
Huset. . . . .	4	Huvudvärk. . . . .	17
Annas nya rum . . . . .	5	Bråk. . . . .	18
Almanackan . . . . .	6	Välja rätt. . . . .	19
Reklambladet . . . . .	8	Ugnspannkaka . . . . .	20
Soppatorsk . . . . .	9	Affären . . . . .	22
Friidrottstävlingen . . . . .	10	Maskeradfest . . . . .	24
Hur passar bitarna in? . . . . .	12	Duka borden . . . . .	25
Symbolers värde . . . . .	12	Glass . . . . .	26
Först till mål . . . . .	13	Tidszoner . . . . .	28
Ubongo . . . . .	14	Hur går det? . . . . .	29
Träningspasset . . . . .	15	Facit . . . . .	30

**Författare**

**Victoria W Gustafsson Anette S Panboon**

**Bilder**

**Helena Holmquist**

**ASKUNGE**

# Reklambladet

Antonio ska åka och handla. Han sitter och tittar på ett reklamblad från Matkungen. Anna har skrivit en handlingslista.




► Ungefär hur mycket kostar varorna som Anna vill att Antonio ska handla?

► Skriv en egen matteuppgift som passar till reklamen. Be en kompis lösa din uppgift!

# Soppatorsk

Familjen är på väg till en friidrottstävling i Vargviken, där Anna ska tävla i löpning och längdhopp.

– Nu är det bara 31 kilometer kvar, säger pappa.



Efter 28 kilometer får de slut bensen.

– Det får bli uppvärmningen, säger pappa medan han och Anna springer den sista sträckan.

▶ Hur många meter har de kvar till Vargviken?

Vilken sträcka är längst?

▶ Sätt ut > < och =.

> större än

< mindre än

= lika med

2 mil            20 km

34 km            3400 m

2010 m            2 km

11 km            900 m

6050 m            65 km

3000 m            3 km

# Affären

Anna och hennes kompisar har följt med Antonio till affären. De har tur. Affären firar ett år och har godisregn utanför. Barnen bestämmer att de ska dela godisarna så att alla får lika många. Anna fångar 6 godisar, Vera 11 och Kim 4.



► Visa hur många godisar de ska ge varandra för att alla ska få lika många.


Antonio lägger ner en Kalle Anka i korgen. Han gillar att läsa den själv, därför köper han ofta tidningen till Anna. I affären kostar den 21 kr. Just nu har de ett specialerbjudande. För 79 kr får man en prenumeration på 6 nummer av tidningen.

► Hur mycket skulle det kosta att köpa 6 nummer av tidningen i affären?

► Hur mycket billigare blir det att prenumerera?

Antonio köper 1,5 kg apelsiner, 500 g äpplen och 3 hg skinka.

► Ungefär hur mycket kostar det?



På väg till kassan ser Antonio att det är extrapris på kyckling, 1 kg kostar 79 kr. Antonio köper kyckling för 316 kr.

► Hur många kilo köper han?

Han räcker fram tre hundralappar och tre femtiolappar kr till kassörskan och får 38 kr tillbaka.

► Hur mycket har han handlat för?